

Игнатикова Светлана Серафимовна


Тонкова Ирина Викторовна

МОУ «Гимназия № 4»

г.о. Электросталь




Игра
«Умники и умницы»
2 класс




Цели:

- развивать познавательный интерес, внимание;
- логическое мышление;
- развивать творческие и коммуникативные способности.



раунд


Математическая разминка.



Дом без окон и дверей,
Как зелёный сундучок,
В нём шесть кругленьких детей,
Называется *стручок*.

Стоит Антошка,
На одной ножке.
Где солнце станет,
Туда он и глянет. *Подсолнух*.






Два брюшка,
Четыре ушка.

Подушка.

Два братца в воду глядятся,
Век не сойдутся.

Берега.





Две сардельки варятся 6 минут.

Сколько времени будут вариться 8 таких сарделек?

6 минут

Шла баба в Москву и повстречала трёх мужиков.

Каждый из которых нёс по мешку,
в каждом мешке — по коту. Сколько
всего существ направлялось в Москву?

Одна баба.






Пять лампочек тускло горели в люстре.
Хлопнули двери – и две перегорели.
Сделать нужно малость:
сказать, сколько лампочек осталось?

5 лампочек

Когда гусь стоит на двух ногах,
то весит 4 кг. Сколько будет весить гусь,
когда встанет на одну ногу?

4 кг






Семь воробьишек спустились на грядки.
Подкрался кот и схватил одного.
Сколько воробьёв осталось на грядке?

Ни одного.

Две матери, две дочери да бабушка
с внучкой. Сколько их было?

3






Сколько лет рыбачил старик
из «Сказки о рыбаке и рыбке» А. С. Пушкина
до того, как поймал золотую рыбку?

Ровно 30 лет и 3 года.

Крошечка-Хаврошечка пошла в лес
со своими сёстрами – Одноглазкой,
Двуглазкой и Трёхглазкой.
Сколько всего глаз было у этой компании?

8





раунд

Кто быстрее?




3



раунд


Сумма трёх чисел.



19, 11, 25, 6, 7, 13.


Какие три числа из записанных на доске
составят в сумме 50?

Какие три числа из записанных на доске
составят в сумме 45?

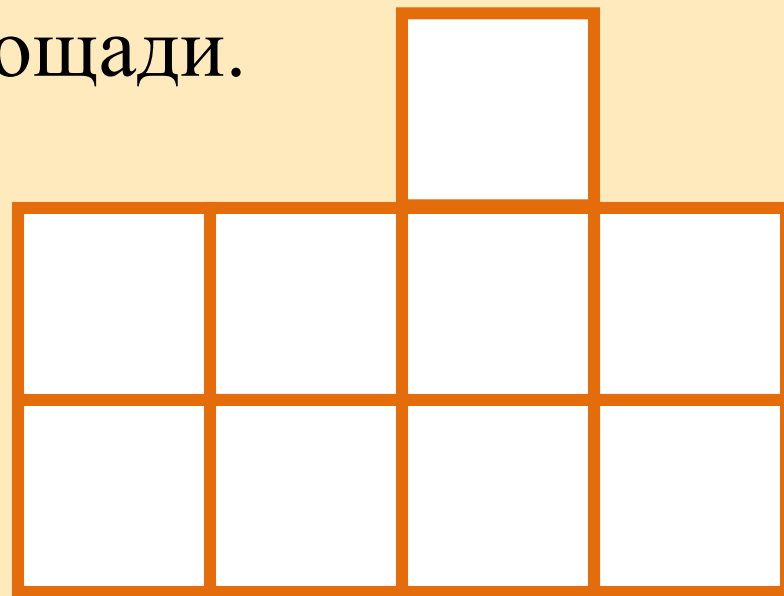


раунд

Конкурс капитанов.




Вам дана фигура, состоящая из 9 одинаковых квадратов. Разрежьте её на три части, равные по форме и площади.






раунд

Подумай.



крыша—ша+лопасть—пасть=?


глина—ина+азбука—бука=?




Заполни магический квадрат.

	16	2
	8	
14		

3		
13		5
11		



Подведение итогов.



Молодцы!

Список используемой литературы.

- Архарова Л.И., Гребенкина Л.К., Демидова С.Б. Сценарии праздников, классных часов, игр, развлечений для начальной школы/М.; Центр «Педагогический поиск», 2004 г.-160с.
- Лавриненко Т. А. Задания развивающего характера по математике. Саратов: «Лицей», 2001 г. – 192 с.
- Минский Е.М. От игры к знаниям/М.:Просвещение,1987 г.- 192 с.
- Настольная книга учителя начальных классов./Авторы – составители Л.С.Бескоровайная, О.В.Перекальева –Ростов н/Д: изд-во «Феникс», 2002 -352 с.
- Шаблон презентации. Хребтова Т. В. Учитель начальных классов МКОУ «СОШ ст. Евсино» Искитимского района Новосибирской области. 2013 г.
- <http://images.yandex.ru/yandsearch?p=1&text> (картинки)

